

Промежуточная аттестация по географии в 5 классе
ДЕМО-ВЕРСИЯ

1. Какой из перечисленных объектов изучает география?

- 1) звезды 2) растения
3) взаимоотношения животных организмов 4) материки

2. Кто совершил первую кругосветную экспедицию, через какие океаны он проплыл?

- 1) Колумб 2) Магеллан 3) финикийцы 4) Васко да Гама

3. Назовите черты сходства и различий планет земной группы и планет-гигантов.

4. Назовите следствия движения Земли вокруг Солнца и вокруг Солнца

5. На сколько градусов Земля повернется вокруг своей оси за 6 часов, за 12 часов?

6. Докажите уникальность Земли как планеты.

7. Какому численному масштабу соответствует масштаб в 1 см 550 км? Какой из перечисленных масштабов крупнее, мельче?

- 1) 1:5500 2) 1:55000 3) 1:550 000 4) 1:5 500 0000

8. С помощью рисунка 1 установите соответствие между точками, обозначенными на рисунке буквами, и значениями азимута.

Точки	Азимут
А) А	1) 90°
Б) Б	2) 180°
В) В	3) 270°
	4) 320°

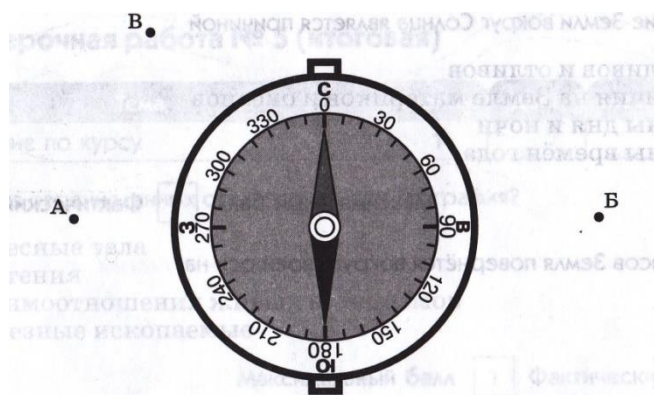


Рис. 1.

9. На каком из рисунков (2,а или 2,б) изображен холм, а на каком впадина?

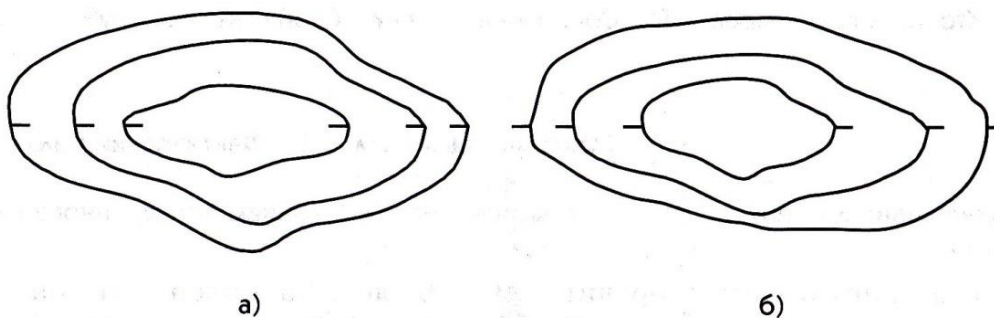


Рис. 2

10. Какие линии показывают на карте направление запад-восток и север-юг?

11. Какие географические координаты имеет точка, обозначенная на карте (рис.3) буквой А?

- 1) 40° с.ш. и 60° з.д. 2) 40° ю.ш. и 60° в.д. 3) 40° с.ш. и 60° в.д. 4) 40° ю.ш. и 60° з.д.

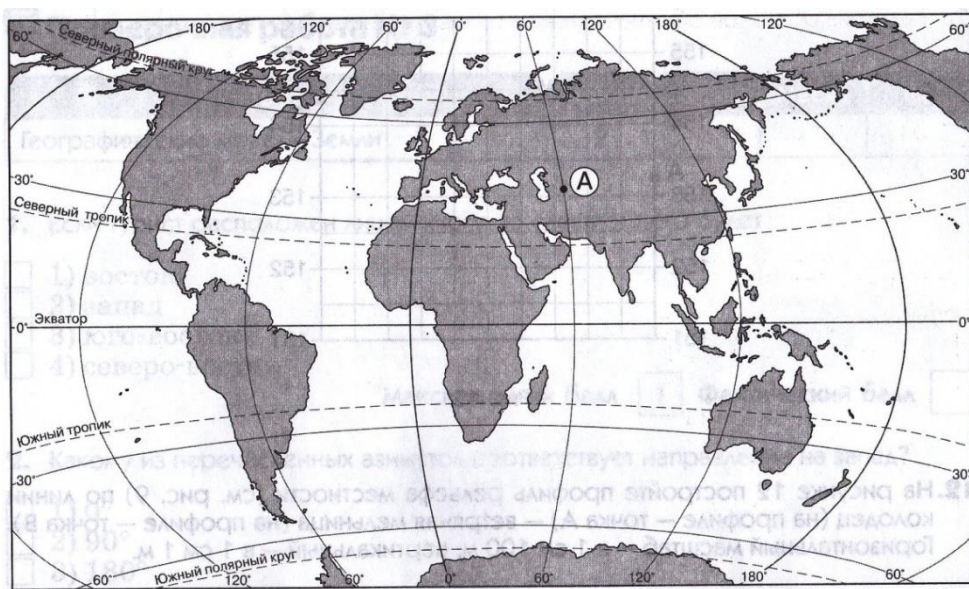


Рис.3.

Задание 12 выполняется с использованием приведенного ниже текста.

С помощью карты середины 16в. было установлено, что на острове в точке с координатами 60°с.ш. и 180°д. спрятан старый клад.

12. В каком океане расположен этот остров?

13. Какая из горных пород относится к группе осадочных, магматических, метаморфических?

1) мрамор 2) гранит 3) глина 4) базальт

14. Установите соответствие между формой рельефа и материком, на котором она расположена.

Форма рельефа

материк

А) Гималаи

1) Северная Америка

Б) Кордильеры

2) Африка

В) Альпы

3) Евразия

Г) Анды

4) Южная Америка

Запишите цифры соответствующие выбранным ответам.

15. Какие формы рельефа будут преобладать в районе, подвергшемся воздействию стихийных явлений?

16. Каково внутреннее строение Земли?

17. Назовите виды земной коры, чем они отличаются друг от друга?